

ΚΕΦΑΛΑΙΟ 3ο

ΟΞΕΑ - ΒΑΣΕΙΣ - ΟΞΕΙΔΙΑ - ΑΛΑΤΑ

3.1 Ερωτήσεις πολλαπλής επιλογής

Στις παρακάτω ερωτήσεις (1-39) να βάλετε σε κύκλο το γράμμα που αντιστοιχεί στη σωστή απάντηση.

1. Ποια από τις παρακάτω είναι ιδιότητα όλων των οξέων;:
 - α. έχουν γεύση γλυκιά
 - β. με ηλεκτρόλυση υδατικού τους διαλύματος παράγεται στην κάθοδο αέριο H_2
 - γ. τα υδατικά τους διαλύματα έχουν $pH = 7$
 - δ. αντιδρούν με όλα τα μέταλλα και ελευθερώνουν αέριο H_2 .

2. Με ηλεκτρόλυση των υδατικών διαλυμάτων των οξέων παίρνουμε στην κάθοδο:
 - α. ιόντα H^+
 - β. αέριο H_2
 - γ. αέριο O_2
 - δ. ένα αέριο που εξαρτάται από το είδος του οξέος.

3. Αν σε άχρωμο διάλυμα με $pH = 12$ προσθέσουμε μερικές σταγόνες φαινολοφθαλεΐνης, το διάλυμα:
 - α. θα παραμείνει άχρωμο
 - β. θα αποκτήσει χρώμα που εξαρτάται από την ποσότητα της φαινολοφθαλεΐνης που προσθέσαμε
 - γ. θα γίνει κόκκινο
 - δ. θα αποκτήσει χρώμα που εξαρτάται από το είδος της διαλυμένης ουσίας που περιέχει.

4. Οξέα, σύμφωνα με τη θεωρία του Arrhenius, είναι όλες οι ενώσεις που:
 - α. περιέχουν υδρογόνο
 - β. όταν ηλεκτρολύονται ελευθερώνουν στην άνοδο H_2
 - γ. όταν διαλύονται στο νερό δίνουν κατιόντα H^+
 - δ. αντιδρούν με το νερό και ελευθερώνουν αέριο H_2 .

5. Βάσεις, σύμφωνα με τη θεωρία του Arrhenius, είναι όλες οι ενώσεις που:
- περιέχουν τη ρίζα υδροξύλιο
 - αντιδρούν με οξέα
 - αλλάζουν το χρώμα των δεικτών
 - όταν διαλύονται στο νερό δίνουν ανιόντα OH^- .
6. Το υδροχλωρικό οξύ είναι:
- το καθαρό υδροχλώριο
 - διάλυμα χλωρίου σε νερό
 - μείγμα υδρογόνου και χλωρίου.
 - διάλυμα υδροχλωρίου σε νερό.
7. Η ένωση HNO_3 είναι οξύ, σύμφωνα με τη θεωρία του Arrhenius, διότι:
- αντιδρά με το NaOH
 - μεταβάλλει το χρώμα των δεικτών
 - όταν διαλύεται στο νερό ελευθερώνει ιόντα H^+
 - είναι ηλεκτρολύτης.
8. Η ένωση Ca(OH)_2 είναι βάση, σύμφωνα με τη θεωρία του Arrhenius, διότι:
- αντιδρά με HCl
 - είναι ηλεκτρολύτης
 - μεταβάλλει το χρώμα των δεικτών
 - όταν διαλύεται στο νερό ελευθερώνει ιόντα OH^- .
9. Από τις ενώσεις: HCl , H_2O , NH_3 , H_2SO_4 και HClO , είναι οξέα κατά τον Arrhenius οι:
- NH_3 και HCl
 - H_2SO_4 , H_2O και HClO
 - HCl , H_2SO_4 και HClO
 - H_2SO_4 , HClO και NH_3 .
10. Κατά την ηλεκτρόλυση υδατικού διαλύματος καθεμιάς από τις ενώσεις: HCl , H_2SO_4 , Ca(OH)_2 , NH_3 , H_2S και NaOH , θα ελευθερωθεί στην κάθοδο αέριο H_2 από τα διαλύματα:
- των H_2SO_4 , HNO_3 και NH_3
 - των Ca(OH)_2 , NH_3 και NaOH
 - των H_2S , H_2SO_4 και HCl
 - των H_2S , HCl και NH_3
 - όλων των ενώσεων.

11. Κατά την ηλεκτρόλυση υδατικού διαλύματος καθεμιάς από τις ενώσεις: H_2SO_4 , KOH , $Ca(OH)_2$, $HClO_3$, HBr και NH_3 θα ελευθερωθεί στην άνοδο αέριο O_2 μόνο από τα διαλύματα των:
- α. H_2SO_4 , $HClO_3$ και HBr
 - β. H_2SO_4 , KOH , $Ca(OH)_2$ και $HClO_3$
 - γ. NH_3 , $Ca(OH)_2$ και KOH
 - δ. $Ca(OH)_2$ και KOH .
12. Από τις ενώσεις: HCl , H_2SO_4 , $Ca(OH)_2$, H_2O και KOH , αντιδρούν με Na και ελευθερώνουν αέριο H_2 μόνο οι:
- α. HCl και H_2SO_4
 - β. $Ca(OH)_2$ και KOH
 - γ. HCl , H_2SO_4 , $Ca(OH)_2$ και H_2O
 - δ. H_2O , HCl και H_2SO_4 .
13. Για να καθαρίσουμε το φούρνο της ηλεκτρικής κουζίνας από τις λιπαρές ουσίες που έχουν συσσωρευτεί, είναι καλύτερα να χρησιμοποιήσουμε υγρό καθαρισμού που περιέχει:
- α. ένα ισχυρό οξύ
 - β. μία ισχυρή βάση
 - γ. ένα ασθενές οξύ
 - δ. μία ασθενή βάση.
14. Όξινα οξείδια ονομάζονται τα οξείδια που:
- α. αντιδρούν με οξέα
 - β. αντιδρούν με βάσεις
 - γ. προκύπτουν με αφυδάτωση των οξέων
 - δ. έχουν όξινη γεύση.
15. Οι ενώσεις: ZnO , Al_2O_3 και SnO είναι:
- α. βασικά οξείδια
 - β. επαμφοτερίζοντα οξείδια
 - γ. ανυδρίτες οξέων
 - δ. ουδέτερα οξείδια.
16. Τα άλατα αποτελούνται:
- α. μόνο από κατιόντα
 - β. από ένα κατιόν και ένα ανιόν
 - γ. από ίσο αριθμό κατιόντων και ανιόντων
 - δ. από κατιόντα και ανιόντα με τέτοια αναλογία ώστε να είναι ηλεκτρικά ουδέτερα.

17. Σε κάθε χημική αντίδραση η μάζα των προϊόντων σωμάτων της αντίδρασης:
- είναι πάντα ίση με τη μάζα των αντιδρώντων που μετατράπηκαν σε προϊόντα
 - είναι μικρότερη από τη μάζα των αντιδρώντων, όταν κατά την αντίδραση παράγονται αέρια
 - εξαρτάται από την ταχύτητα της αντίδρασης
 - είναι ίση με το άθροισμα των μαζών των σωμάτων που αναμείξαμε αρχικά.
18. Κάθε χημική αντίδραση:
- πραγματοποιείται μόνο στα χημικά εργαστήρια
 - μπορεί να πραγματοποιηθεί σε οποιεσδήποτε συνθήκες
 - πραγματοποιείται μόνο σε κατάλληλες συνθήκες
 - απαιτεί θέρμανση του συστήματος προκειμένου να πραγματοποιηθεί.
19. Σε κάθε χημική αντίδραση αποσύνθεσης:
- μία χημική ουσία διασπάται σε απλούστερες ενώσεις
 - δύο χημικές ουσίες διασπώνται σε απλούστερες ενώσεις
 - ένα χημικό στοιχείο διασπάται σε άλλα στοιχεία
 - μειώνεται η μάζα του συστήματος.
20. Κάθε οξύ αντιδρά:
- με τις βάσεις, με τα βασικά και τα επαμφοτερίζοντα οξείδια καθώς και με τα μέταλλα που είναι ηλεκτροθετικότερα από το υδρογόνο
 - μόνο με τις βάσεις
 - με τις βάσεις, με τα όξινα και με τα βασικά οξείδια
 - με τις βάσεις, με τα βασικά οξείδια και με όλα τα άλατα.
21. Όλες οι βάσεις αντιδρούν:
- με τα οξέα, με τα όξινα οξείδια και με όλα τα άλατα
 - μόνο με τα οξέα
 - με τα οξέα και με τα όξινα οξείδια
 - με τα οξέα και με τα βασικά οξείδια.

22. Από τις ενώσεις: H_2SO_4 , H_2O , N_2O_5 και NH_3 αντιδρούν με το $NaOH$ μόνο οι:
- α. H_2SO_4 γ. N_2O_5 και H_2O
 - β. H_2SO_4 και N_2O_5 δ. H_2SO_4 , N_2O_5 και NH_3 .
23. Από τις ενώσεις: K_2SO_4 , SO_3 , $Ca(OH)_2$, BaO και NH_3 αντιδρούν με το HCl οι:
- α. SO_3 , $Ca(OH)_2$ και BaO γ. K_2SO_4 και NH_3
 - β. K_2SO_4 , $Ca(OH)_2$ και BaO δ. $Ca(OH)_2$, BaO και NH_3 .
24. Τα συνήθη υδροξείδια των μετάλλων είναι:
- α. ευδιάλυτα στο νερό, εκτός από τα: KOH , $NaOH$, $Ca(OH)_2$ και $Ba(OH)_2$
 - β. δυσδιάλυτα στο νερό, εκτός από τα: KOH , $NaOH$, $Ca(OH)_2$ και $Ba(OH)_2$
 - γ. όλα ευδιάλυτα στο νερό
 - δ. όλα δυσδιάλυτα στο νερό.
25. Κατά την προσθήκη Zn σε διάλυμα HCl :
- α. θα πραγματοποιηθεί οπωσδήποτε χημική αντίδραση
 - β. δε θα παρατηρηθεί κανένα φαινόμενο
 - γ. θα πραγματοποιηθεί χημική αντίδραση, μόνο αν το διάλυμα είναι θερμό
 - δ. θα πραγματοποιηθεί χημική αντίδραση, μόνο αν το διάλυμα έχει κατάλληλη συγκέντρωση.
26. Αν σε ένα αραιό διάλυμα H_2SO_4 βυθίσουμε μια σιδερένια ράβδος θα αντιδράσει με το οξύ, διότι:
- α. όλα τα μέταλλα αντιδρούν με τα οξέα
 - β. ο σίδηρος είναι ηλεκτροθετικότερος από το υδρογόνο
 - γ. το υδρογόνο είναι ηλεκτροθετικότερο από το σίδηρο
 - δ. καταβυθίζεται ίζημα.
27. Ένα διάλυμα H_2SO_4 μπορεί να αντιδράσει με διάλυμα ενός άλατος:
- α. μόνο όταν σχηματίζεται δυσδιάλυτο αλάτι
 - β. μόνο όταν ελευθερώνεται αέριο
 - γ. σε οποιαδήποτε περίπτωση
 - δ. όταν καταβυθίζεται ίζημα ή ελευθερώνεται αέριο.

28. Κατά την ανάμειξη AgNO_3 με διάλυμα HCl πραγματοποιείται χημική αντίδραση, διότι:
- ελευθερώνεται ένα αέριο
 - το υδρογόνο είναι ηλεκτροθετικότερο στοιχείο από τον άργυρο
 - τα οξέα αντιδρούν με όλα τα άλατα
 - καταβυθίζεται ίζημα.
29. Το CO_2 αντιδρά με διάλυμα NaOH , διότι:
- καταβυθίζεται δυσδιάλυτο ανθρακικό αλάτι
 - τα όξινα οξείδια αντιδρούν με τα διαλύματα των βάσεων
 - όλα τα οξείδια αντιδρούν με τις βάσεις
 - το CO_2 είναι αέριο.
30. Αν προσθέσουμε N_2O_5 σε διάλυμα NaOH , θα προκύψει ένα νέο διάλυμα που θα περιέχει:
- νιτρικό οξύ και υδροξείδιο του νατρίου
 - νιτρικό οξύ και νιτρικό νάτριο
 - νιτρικό νάτριο και υδροξείδιο του νατρίου
 - μόνο νιτρικό νάτριο
 - δεν είναι επαρκή τα δεδομένα για να γνωρίζουμε τι θα περιέχει.
31. Αν προσθέσουμε N_2O_5 σε διάλυμα KOH , θα προκύψει διάλυμα που δεν είναι δυνατό να περιέχει:
- | | |
|--------------------------------------|--------------------------------------|
| α. HNO_3 και KNO_3 | γ. μόνο KNO_3 |
| β. KNO_3 και KOH | δ. HNO_3 και KOH . |
32. Αν προσθέσουμε $\text{Cu}(\text{OH})_2$ σε διάλυμα οξέος:
- θα σχηματιστεί ένα αλάτι και θα ελευθερωθεί ένα αέριο
 - δε θα γίνει καμία αντίδραση, διότι ο χαλκός είναι λιγότερο δραστήσιος από το υδρογόνο
 - θα σχηματιστεί αλάτι και νερό
 - δε γνωρίζουμε αν θα πραγματοποιηθεί αντίδραση, διότι αυτό εξαρτάται από το είδος του οξέος.

33. Από τις χημικές ουσίες: Na_2O , KNO_3 , SO_3 , Ca(OH)_2 και Ba , αντιδρούν με το νερό μόνο οι:
- | | |
|--|---|
| α. Na_2O , SO_3 και Ba | γ. KNO_3 , Ca(OH)_2 και Ba |
| β. Na_2O και SO_3 | δ. Ca(OH)_2 και Ba . |
34. Από τις χημικές ενώσεις: SO_2 , NH_3 , NaOH , H_2S , CO_2 , CaO , NH_4Cl και H_2SO_4 , στις συνθήκες συνθήκες είναι αέριες μόνο οι:
- | | |
|---|--|
| α. NH_3 , H_2S , H_2SO_4 και CO_2 | γ. NH_3 , H_2S , CO_2 και NH_4Cl |
| β. SO_2 και CO_2 | δ. SO_2 , NH_3 , H_2S και CO_2 . |
35. Σε τέσσερα κουτιά Α, Β, Γ και Δ ενός εργαστηρίου περιέχονται αντίστοιχα οι ενώσεις: CuO , SO_3 , KCl και οξαλικό οξύ. Τίνος κουτιού το περιεχόμενο αντιδρά με διάλυμα KOH ;
- | | |
|---------------------------|----------------------------|
| α. του Β και του Δ | γ. μόνο του Δ |
| β. του Α, του Β και του Δ | δ. του Α, του Γ και του Δ. |
36. Κατά την ανάμειξη διαλύματος NH_4Cl με διάλυμα KOH πραγματοποιείται αντίδραση, διότι:
- α. οι βάσεις αντιδρούν με όλα τα άλατα
 - β. καταβυθίζεται ίζημα NH_4OH
 - γ. καταβυθίζεται ίζημα KCl
 - δ. ελευθερώνεται αέρια αμμωνία.
37. Η μάζα του άλατος που σχηματίζεται κατά την εξουδετέρωση μιας ποσότητας υδροξειδίου μετάλλου από την κατάλληλη ποσότητα οξέος:
- α. είναι ίση με το άθροισμα των μαζών του οξέος και της βάσης
 - β. είναι πάντα μικρότερη από το άθροισμα των μαζών του οξέος και της βάσης
 - γ. δεν μπορεί να συγκριθεί με το άθροισμα των μαζών του οξέος και της βάσης, διότι η σύγκριση αυτή εξαρτάται από τη φύση των αντιδρώντων
 - δ. είναι πάντα μεγαλύτερη από τη μάζα του υδροξειδίου του μετάλλου που αντέδρασε.

38. Για την αντίδραση $C + O_2 \rightarrow CO_2$, τι από τα παρακάτω δεν ισχύει:
- α. είναι αντίδραση σύνθεσης
 - β. είναι η αντίδραση καύσης του C
 - γ. ο C ανάγεται
 - δ. το οξυγόνο ανάγεται
 - ε. ο C είναι το αναγωγικό.
39. Η όξινη βροχή έχει pH μικρότερο της «καθαρής» βροχής. Αυτό οφείλεται κυρίως:
- α. στην αυξημένη περιεκτικότητα της ατμόσφαιρας σε CO_2
 - β. στην αυξημένη περιεκτικότητα της ατμόσφαιρας σε οξείδια ρύπων, όπως το SO_2 και το NO_2
 - γ. σε οξέα που ξεφεύγουν στην ατμόσφαιρα μέσω των βιομηχανικών αποβλήτων
 - δ. στη δημιουργία στην ατμόσφαιρα τυχαίων φυσικών συνθηκών που ευνοούν το σχηματισμό οξέων.

3.2 Ερωτήσεις διάταξης

1. Να διατάξετε κατά σειρά αυξανόμενης οξύτητας και ελαττούμενης βασικότητας τα διαλύματα Δ_1 , Δ_2 , Δ_3 , Δ_4 , και Δ_5 για τα οποία δίνονται: Δ_1 : pH = 6, Δ_2 : pH = 13, Δ_3 : pH = 14, Δ_4 : pH = 7 και Δ_5 : pH = 0.
2. Σε πέντε ποτήρια περιέχονται τα υγρά:

Α : αποσταγμένο νερό,	Β : πυκνό διάλυμα θειϊκού οξέος
Γ : αραιό διάλυμα αμμωνίας,	Δ : διάλυμα ασπιρίνης
Ε : πυκνό διάλυμα καυστικής σόδας.	

 Να διατάξετε τα πέντε αυτά υγρά Α, Β, Γ, Δ και Ε κατά σειρά αυξανόμενου pH.
3. Βυθίζουμε για αρκετή ώρα μέρος ενός ελάσματος Cu σε διάλυμα $AgNO_3$ και παρατηρούμε ότι αυτό επαργυρώνεται. Το επαργυρωμένο έλασμα το βυθίζουμε στη συνέχεια σε θερμό διάλυμα HCl, οπότε δεν παρατηρούμε καμία μεταβολή. Ρίχνουμε ένα σιδερένιο καρφί σε θερμό διάλυμα HCl και παρατηρούμε ότι ελευθερώνεται αέριο και το καρφί διαλύεται σιγά-σιγά. Με βάση τις παραπάνω παρατηρήσεις να διατάξετε τα στοιχεία Cu, Ag, Fe και H κατά σειρά αυξανόμενης δραστηριότητας.

3.2 Ερωτήσεις αντιστοίχισης

1. Να γίνει η αντιστοίχιση μεταξύ των χημικών ενώσεων που περιέχονται στη στήλη (I) και των κατηγοριών της στήλης (II):

(I)	(II)
A. Na ₂ O	α. επαμφοτερίζον οξείδιο
B. H ₂ SO ₄	β. μονοπρωτικό οξύ
Γ. P ₂ O ₅	γ. μονοπρωτική βάση
Δ. Al ₂ O ₃	δ. πολυπρωτικό οξύ
E. KOH	ε. πολυπρωτική βάση
Z. HNO ₃	ζ. βασικό οξείδιο
H. Ca(OH) ₂	η. όξινο οξείδιο.

2. Να γίνει αντιστοίχιση μεταξύ των μοριακών τύπων της στήλης (I) και των ονομασιών της στήλης (II):

(I)	(II)
A. HClO ₃	α. χλωριώδες οξύ (υδρογόνο χλωριώδες)
B. Na ₂ SO ₄	β. υδροξείδιο του καλίου (κάλιο υδροξείδιο)
Γ. Ca(OH) ₂	γ. θειώδες νάτριο (νάτριο θειώδες)
Δ. KOH	δ. υδροξείδιο του ασβεστίου (ασβέστιο υδροξείδιο)
E. HClO ₂	ε. θειούχο νάτριο (νάτριο σουλφίδιο)
Z. Na ₂ S	ζ. υποχλωριώδες οξύ (υδρογόνο υποχλωριώδες)
H. Na ₂ SO ₃	η. χλωρικό οξύ (υδρογόνο χλωρικό)
Θ. HClO	θ. υδροχλώριο (υδρογόνο χλωρίδιο)
I. HCl	ι. θειϊκό νάτριο (νάτριο θειϊκό)

3. Να σημειώσετε σε κάθε κενό ορθογώνιο του παρακάτω πίνακα το σύμβολο «+» αν η αντίστοιχη ένωση ανήκει στην κατηγορία του πίνακα αυτού και το σύμβολο «-» στην αντίθετη περίπτωση:

	θειϊκό οξύ	υδροξείδιο του νατρίου	οξικό οξύ	αμμωνία	νιτρικό οξύ
ισχυρό οξύ					
ισχυρή βάση					
ασθενές οξύ					
ασθενής βάση					

4. Να σημειώσετε σε κάθε κενό ορθογώνιο του παρακάτω πίνακα το σύμβολο «+» αν το αντίστοιχο οξείδιο ανήκει στην κατηγορία του πίνακα αυτού και το σύμβολο «-» στην αντίθετη περίπτωση:

	Fe ₂ O ₃	CO ₂	SO ₃	CaO	Al ₂ O ₃	P ₂ O ₅	ZnO	K ₂ O
όξινο οξείδιο								
βασικό οξείδιο								
επαμφοτερίζον οξείδιο								

5. Σημειώστε το σύμβολο «+» στα κενά ορθογώνια του παρακάτω πίνακα, αν με συνδυασμό του κατιόντος και του αντίστοιχου ανιόντος προκύπτει ο χημικός τύπος δυσδιάλυτης ένωσης:

	Ba ²⁺	Ca ²⁺	Mg ²⁺	Al ³⁺	Fe ²⁺	Fe ³⁺	Pb ²⁺	Cu ²⁺	Zn ²⁺	Ag ⁺
OH ⁻										
Cl ⁻										
PO ₄ ³⁻										

6. Σημειώστε το σύμβολο «+» στα κενά ορθογώνια του παρακάτω πίνακα, εάν με συνδυασμό του κατιόντος και του αντίστοιχου ανιόντος προκύπτει ο χημικός τύπος δυσδιάλυτης ένωσης.

	Ba ²⁺	Ca ²⁺	Mg ²⁺	Al ³⁺	Fe ²⁺	Fe ³⁺	Pb ²⁺	Cu ²⁺	Zn ²⁺	Ag ⁺
SO ₄ ²⁻										
S ²⁻										
CO ₃ ²⁻										

7. Να γίνει αντιστοίχιση μεταξύ των διαλυμάτων που περιέχονται στη στήλη (I) και των τιμών pH της στήλης (II).

(I)	(II)
A. αραιό διάλυμα NaOH	α. 12
B. πυκνό διάλυμα HCl	β. 7
Γ. πυκνό διάλυμα NaOH	γ. 2
Δ. διάλυμα CaCl ₂	δ. 0,5
E. αραιό διάλυμα HCl	ε. 14.

8. Να αντιστοιχίσετε κάθε χημική ένωση της στήλης (I) με μία μόνο χημική ένωση της στήλης (II), έτσι ώστε οι ενώσεις που αντιστοιχίζονται να αντιδρούν μεταξύ τους:

(I)	(II)
A. NaOH	α. Al(NO ₃) ₃
B. Pb(NO ₃) ₂	β. (NH ₄) ₂ S
Γ. CuSO ₄	γ. CaCl ₂
Δ. H ₂ SO ₄	δ. HCl

(δίνεται ότι οι ενώσεις: CaSO₄, PbCl₂, Al(OH)₃ και CuS είναι δυσδιάλυτες).

9. Να αντιστοιχίσετε το κάθε χημικό στοιχείο της στήλης (I) με μία μόνο χημική ένωση με την οποία αντιδρά και βρίσκεται στη στήλη (II):

(I)	(II)
A. Fe	α. AgNO ₃
B. Al	β. HCl
Γ. Cu	γ. FeCl ₃
Δ. Ca	δ. AlCl ₃

10. Να αντιστοιχίσετε κάθε χημική ένωση της στήλης (I) με μία μόνο χημική ένωση της στήλης (II), έτσι ώστε οι ενώσεις που αντιστοιχίζονται να αντιδρούν μεταξύ τους.

(I)	(II)
A. H ₂ SO ₄	α. H ₂ O
B. CO ₂	β. Ca(OH) ₂
Γ. NaHCO ₃	γ. CaCl ₂
Δ. CaO	δ. HCl.

11. Πέντε δοχεία A, B, Γ, Δ και E περιέχουν το καθένα ένα από τα αέρια: H₂, O₂, NH₃, SO₂, και CO₂.

Το αέριο του δοχείου A παράγεται κατά την καύση του S, του δοχείου B παράγεται κατά την επίδραση NaOH σε διάλυμα NH₄Cl, του δοχείου Γ χρησιμοποιείται στο γέμισμα των πυροσβεστήρων, του δοχείου Δ παράγεται κατά την ηλεκτρόλυση αραιού διαλύματος KOH και του δοχείου E κατά την επίδραση Fe σε θερμό διάλυμα HCl.

Να αντιστοιχήσετε τα δοχεία της στήλης (I) με τα αέρια που αυτά περιέχουν και περιλαμβάνονται στη στήλη (II).

(I)	(II)
1. Α	α. H ₂
2. Β	β. O ₂
3. Γ	γ. NH ₃
4. Δ	δ. SO ₂
5. Ε	ε. CO ₂

12. Να αντιστοιχήσετε κάθε φαινόμενο της στήλης (I) με την αιτία που το προκαλεί και βρίσκεται στη στήλη (II).

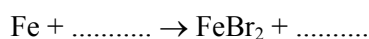
(I)	(II)
Α. όξινη βροχή	1. αντίδραση H ₂ SO ₄ με CaCO ₃
Β. διάβρωση μαρμάρων	2. σχηματισμός ισχυρών οξέων από οξείδια ρύπους της ατμόσφαιρας
Γ. σχηματισμός σταλακτιτών	3. μετατροπή ζάχαρης σε οξέα
Δ. τερηδόνα των δοντιών	4. διάσπαση του Ca(HCO ₃) ₂ .

3.4 Ερωτήσεις συμπλήρωσης

1. Οξέα, σύμφωνα με τη θεωρία του Arrhenius, είναι οι ενώσεις που όταν διαλύονται στο δίνουν
2. Η παρουσία των στα διαλύματα όλων των οξέων των προσδίδει σ' αυτά ορισμένες κοινές ιδιότητες που ονομάζονται χαρακτήρας.
3. Τα διαλύματα όλων των οξέων αλλάζουν το χρώμα ορισμένων ουσιών που λέγονται, έχουν pH του 7, αντιδρούν με βάσεις και σχηματίζουν, αντιδρούν με ορισμένα μέταλλα και ελευθερώνουν αέριο και κατά την ηλεκτρόλυσή τους παράγεται στην αέριο

4. Βάσεις, σύμφωνα με τη θεωρία του Arrhenius, είναι οι ενώσεις που όταν διαλύονται στο νερό δίνουν
5. Η παρουσία των στα διαλύματα όλων των βάσεων προσδίδει σ' αυτά ορισμένες κοινές ιδιότητες που ονομάζονται χαρακτήρας.
6. Τα διαλύματα των βάσεων αλλάζουν το χρώμα ορισμένων ουσιών που λέγονται, έχουν pH, του 7, αντιδρούν με οξέα και σχηματίζουν και κατά την ηλεκτρόλυσή τους παράγεται στην αέριο
7. Τα όξινα οξείδια ή είναι συνήθως οξείδια και προκύπτουν με αφυδάτωση των, όπως για παράδειγμα το SO_3 που προκύπτει με αφυδάτωση του
8. Τα οξέα τα οποία όταν διαλυθούν στο νερό μετατρέπονται πλήρως σε ιόντα ονομάζονται, όπως για παράδειγμα το και το, ενώ τα οξέα τα οποία διαλυόμενα στο νερό λίγα μόνο από τα μόριά τους μετατρέπονται σε ιόντα ονομάζονται, όπως για παράδειγμα το και το
9. Άλατα είναι οι ενώσεις που περιέχουν κατιόν ή και ανιόν ή και έχουν το γενικό τύπο M_xA_y , όπου το x είναι και το y είναι, παρασκευάζονται κυρίως κατά την οξέων με βάσεις και παραλαμβάνονται από τα υδατικά τους διαλύματα με κρυστάλλωση. Όσα άλατα κατά την κρυστάλλωση συγκρατούν μόρια νερού ονομάζονται, ενώ όσα περιέχουν δύο διαφορετικά κατιόντα ονομάζονται

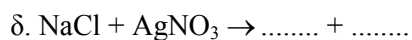
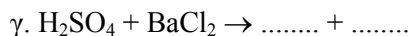
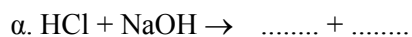
10. Τα οξέα αντιδρούν με μέταλλα που είναι δραστικότερα του και σχηματίζεται και, όπως για παράδειγμα:



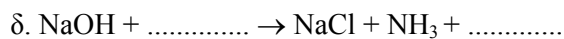
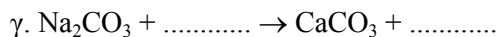
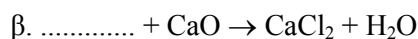

11. Να συμπληρώσετε σε κάθε κενό ορθογώνιο του παρακάτω πίνακα, το μοριακό τύπο ή την ονομασία της αντίστοιχης ένωσης:

Ονομασία	Θειικό κάλιο		Υδροθείο		νιτρικό οξύ		κυανιούχο αμμώνιο
Μοριακός τύπος		FeCl_2		$\text{Ca}(\text{ClO})_2$		NaH_2PO_4	


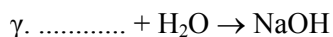
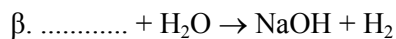
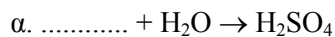
12. Να συμπληρώσετε τις παρακάτω χημικές εξισώσεις ποιοτικά και ποσοτικά:



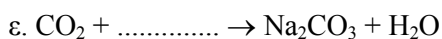
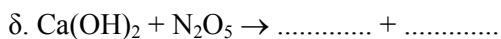

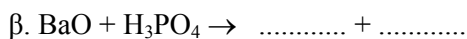

13. Να συμπληρώσετε τις παρακάτω χημικές εξισώσεις ποιοτικά και ποσοτικά:



14. Να συμπληρώσετε τις παρακάτω χημικές εξισώσεις ποιοτικά και ποσοτικά:



15. Να συμπληρώσετε τις παρακάτω χημικές εξισώσεις ποιοτικά και ποσοτικά:



16. Τοποθετήστε στα κενά του παρακάτω πίνακα τους μοριακούς τύπους των ενώσεων που θα προκύψουν κατά την επίδραση νερού στα αντίστοιχα οξείδια:

SO_3	P_2O_5	N_2O_5	CaO	K_2O	BaO

17. Τοποθετήστε στα κενά του παρακάτω πίνακα τους μοριακούς τύπους των ανυδριτών των αντίστοιχων οξέων ή βάσεων:

H_2CO_3	$\text{Al}(\text{OH})_3$	HNO_3	$\text{Ca}(\text{OH})_2$	H_2SO_4	KOH

18. Να βάλετε σε κάθε κενό του ακόλουθου πίνακα τους χημικούς τύπους των αλάτων που θα προκύψουν από την αντίδραση του κάθε οξέος που περιέχεται στην πρώτη στήλη του πίνακα με την αντίστοιχη ουσία που περιέχεται στην πρώτη σειρά του πίνακα.

	K_2O	$\text{Fe}(\text{OH})_2$	CaCO_3	NH_3	Na
H_2SO_4					
HCl					
H_3PO_4					

19. Να συμπληρώσετε τα κενά του παρακάτω πίνακα:

Οξύ ή βάση	$\text{Fe}(\text{OH})_3$		H_2SO_4		H_3PO_4	
ανυδρίτης		CO_2		CuO		N_2O_5

20. Στην αντίδραση $C + O_2 \rightarrow CO_2$ ο αριθμός οξείδωσης του C
από σε , ενώ ο αριθμός οξείδωσης του O
..... από σε Άρα ο C
και προκαλεί την του O, γι' αυτό ονομάζεται
....., ενώ το O και προκαλεί την
του C, γι' αυτό ονομάζεται

3.5 Ερωτήσεις σύντομης απάντησης

1. Τι δείχνει το pH ενός διαλύματος; Ποιες τιμές παίρνει; Ποια τιμή μπορεί να έχει το pH ενός όξινου, ενός βασικού και ενός ουδέτερου διαλύματος;
2. Ποιες ουσίες ονομάζονται ηλεκτρολύτες; Ποιες κατηγορίες σωμάτων είναι ηλεκτρολύτες;
3. Πού οφείλονται οι κοινές ιδιότητες των διαλυμάτων των οξέων, σύμφωνα με τη θεωρία του Arrhenius;
4. Ποιες ουσίες ονομάζονται δείκτες; Σε τι χρησιμεύουν;
5. Γράψτε τον μοριακό τύπο και την ονομασία:
 - α. ενός διπρωτικού οξυγονούχου οξέος
 - β. ενός μονοπρωτικού οξυγονούχου οξέος
 - γ. ενός μονοπρωτικού μη οξυγονούχου οξέος
 - δ. ενός διπρωτικού μη οξυγονούχου οξέος.
6. Ποια οξέα ονομάζονται ισχυρά και ποια ασθενή; Να γράψετε το όνομα δύο ισχυρών και δύο ασθενών οξέων.
7. Γράψτε τον μοριακό τύπο και την ονομασία:
 - α. δύο όξινων οξειδίων
 - β. δύο βασικών οξειδίων
 - γ. δύο επαμφοτεριζόντων οξειδίων.

8. Εξηγήστε πως σχηματίζονται τα ένυδρα άλατα, για παράδειγμα ο ένυδρος θειικός χαλκός ($\text{CuSO}_4 \cdot 5\text{H}_2\text{O}$).
9. Ποιες αντιδράσεις ονομάζονται εξώθερμες και ποιες ενδόθερμες. Να αναφέρετε ένα παράδειγμα για κάθε περίπτωση.
10. Τι ονομάζουμε ταχύτητα αντίδρασης; Να αναφέρετε τρεις παράγοντες που επηρεάζουν την ταχύτητα μιας αντίδρασης.
11. Με ποια προϋπόθεση πραγματοποιείται μια αντίδραση διπλής αντικατάστασης; Γράψτε τη χημική εξίσωση μιας αντίδρασης διπλής αντικατάστασης και εξηγήστε το λόγο για τον οποίο αυτή πραγματοποιείται.
12. Με ποια μέταλλα αντιδρούν τα οξέα (πλην HNO_3 και πυκνού H_2SO_4) και ποια προϊόντα δίνουν; Να γράψετε τη χημική εξίσωση της αντίδρασης ενός απ' αυτά με το υδροχλώριο.
13. Γράψτε τη χημική εξίσωση της αντίδρασης:
- | | |
|-------------------------------------|---------------------------------------|
| α) ενός οξέος με μια βάση | γ) μιας βάσης με ένα όξινο οξείδιο |
| β) ενός οξέος με ένα βασικό οξείδιο | δ) ενός όξινου με ένα βασικό οξείδιο. |
14. Το γαστρικό υγρό στο στομάχι περιέχει HCl . Πώς θα αντιμετωπίσουμε μια υπερέκκριση γαστρικού υγρού το στομάχι; Γιατί δεν επιτρέπεται να πάρουμε ασπιρίνη για το σκοπό αυτό;
15. Γράψτε τη χημική εξίσωση μιας χημικής αντίδρασης στις παρακάτω περιπτώσεις:
- όταν αντιδρά ένα οξύ με ένα αλάτι και ελευθερώνεται αέριο.
 - όταν αντιδρά μια ευδιάλυτη βάση με ένα ευδιάλυτο αλάτι και παράγεται μια δυσδιάλυτη βάση.

3.6 Ερωτήσεις ανάπτυξης

1. Ποιες ενώσεις χαρακτηρίζονται ως οξέα σύμφωνα με τη θεωρία του Arrhenius; Σε ποιες κατηγορίες διακρίνονται αυτά με κριτήριο: α) τον αριθμό H^+ που δίνουν κατά τη διάλυσή τους στο νερό, β) το αν περιέχουν ή όχι οξυγόνο και γ) την ισχύ τους; Να γράψετε το μοριακό τύπο και την ονομασία ενός οξέος που να ανήκει σε καθεμιά από τις κατηγορίες αυτές.
2. Ποιες ενώσεις χαρακτηρίζονται ως βάσεις σύμφωνα με τη θεωρία του Arrhenius; Σε ποιες κατηγορίες διακρίνονται αυτές με κριτήριο: α) τον αριθμό των ανιόντων OH^- που ελευθερώνουν κατά τη διάλυσή τους στο νερό και β) την ισχύ τους; Να γράψετε το μοριακό τύπο και την ονομασία μιας βάσης που να ανήκει σε καθεμιά από τις κατηγορίες αυτές.
3. Ποια οξείδια ονομάζονται όξινα και ποια βασικά; Γράψτε τους μοριακούς τύπους και την ονομασία δύο όξινων και δύο βασικών οξειδίων και για το καθένα απ' αυτά τη χημική εξίσωση μιας αντίδρασης που να αιτιολογεί τον χαρακτηρισμό τους ως όξινο και βασικό αντίστοιχα.
4. Τι συμπέρασμα προκύπτει από τη γνώση της τιμής του pH ενός διαλύματος; Πώς μπορούμε να προσδιορίζουμε το pH σε κάποιο διάλυμα; Εξηγήστε γιατί οι γεωπόνοι πρέπει να γνωρίζουν το pH του εδάφους που πρόκειται να καλλιεργήσουν οι αγρότες.
5. i) Ποια είναι τα προϊόντα της αντίδρασης ενός άλατος:
α. με ένα οξύ, β. με μία βάση και γ. με ένα αλάτι;
ii) Σε ποια κατηγορία ανήκουν αυτές οι αντιδράσεις και με ποια προϋπόθεση πραγματοποιούνται;
iii) Να γράψετε τη χημική εξίσωση μιας αντίδρασης για κάθε περίπτωση.

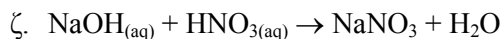
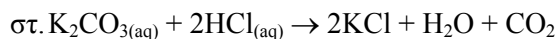
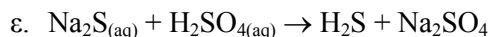
6. i) Να γράψετε τις χημικές εξισώσεις των αντιδράσεων από τις οποίες παρασκευάζονται τα άλατα: τριχλωριούχος σίδηρος, θειικό κάλιο, φωσφορικό νάτριο και νιτρικό ασβέστιο με εξουδετέρωση του κατάλληλου βασικού οξειδίου από το κατάλληλο οξύ.
- ii) Ποια από τα παραπάνω άλατα αντιδρούν μεταξύ τους; Γράψτε τις χημικές εξισώσεις των αντίστοιχων αντιδράσεων.
7. Δίνονται οι χημικές ενώσεις: N_2O_5 , $NaOH$, H_2O , $HClO_3$.
- α. Βρείτε όλα τα δυνατά ζεύγη από τις ενώσεις αυτές που αντιδρούν μεταξύ τους και γράψτε τις χημικές εξισώσεις των αντίστοιχων αντιδράσεων.
- β. Εξηγήστε το λόγο για τον οποίο πραγματοποιείται καθεμιά από τις αντιδράσεις αυτές και γράψτε τα ονόματα των προϊόντων.
8. Τέσσερα άλατα έχουν τους μοριακούς τύπους: $CaCl_2$, K_3PO_4 , $Ca(NO_3)_2$ και $Al_2(SO_4)_3$.
- α. Να γράψετε το όνομα των αλάτων αυτών με την κοινή ονομασία τους και με το σύστημα IUPAC.
- β. Να γράψετε τη χημική εξίσωση της αντίδρασης από την οποία προκύπτει καθένα από τα παραπάνω άλατα με εξουδετέρωση του κατάλληλου οξέος από την κατάλληλη βάση.
9. i) Να γράψετε τις χημικές εξισώσεις των αντιδράσεων που θα πραγματοποιηθούν στις εξής περιπτώσεις:
- α. αν αναμείξουμε υδροχλωρικό οξύ με διάλυμα καυστικού νατρίου
- β. αν διαβιβάσουμε υδροβρώμιο σε ασβεστόνερο
- γ. αν προσθέσουμε οξείδιο του μαγνησίου σε διάλυμα θειικού οξέος
- δ. αν διαβιβάσουμε τριοξείδιο του θείου σε νερό
- ii) Να ονομάσετε τα προϊόντα που θα προκύψουν από κάθε αντίδραση.
- iii) Εξετάστε με ποιο από τα προϊόντα των τριών πρώτων αντιδράσεων μπορεί να αντιδράσει το προϊόν της τέταρτης αντίδρασης. Γράψτε τη χημική εξίσωση της αντίδρασης που πραγματοποιείται.

10. Ένα αέριο μείγμα που αποτελείται από διοξείδιο του άνθρακα, διοξείδιο του θείου και αμμωνία, διαβιβάζεται διαδοχικά σε περίσσεια διαλύματος υδροχλωρίου και σε περίσσεια διαλύματος καυστικού νατρίου.
- Να αιτιολογήσετε τα φαινόμενα που θα πραγματοποιηθούν.
 - Να γράψετε τις χημικές εξισώσεις όλων των αντιδράσεων.
 - Να ονομάσετε τα προϊόντα όλων των αντιδράσεων.
11. Να γράψετε 2 μεθόδους παρασκευής οξέων, 2 μεθόδους παρασκευής βάσεων και 2 μεθόδους παρασκευής αλάτων. Να αναφέρετε ένα παράδειγμα για κάθε περίπτωση, αναγράφοντας και την αντίστοιχη χημική εξίσωση.
12. i) Γράψτε τη χημική εξίσωση της αντίδρασης μεταξύ:
- ενός μετάλλου και του οξυγόνου
 - ενός αμετάλλου και του οξυγόνου
 - ενός μετάλλου και ενός αμετάλλου πλην του οξυγόνου
 - του υδρογόνου και ενός αμετάλλου
- ii) Δώστε την ονομασία όλων των ενώσεων που παράγονται και γράψτε σε ποια κατηγορία ενώσεων ανήκει καθεμία.
13. Σε αποσταγμένο νερό ρίχνουμε μια σταγόνα διαλύματος φαινολοφθαλείνης και στη συνέχεια ένα μικρό κομμάτι νάτριο.
- Να περιγράψετε δύο φαινόμενα που θα παρατηρηθούν μετά την προσθήκη του νατρίου.
 - Να γράψετε τη χημική εξίσωση που περιγράφει ένα χημικό φαινόμενο που παρατηρήθηκε.
14. Να γράψετε τις χημικές εξισώσεις που περιγράφουν τα χημικά φαινόμενα που θα παρατηρηθούν στις εξής περιπτώσεις:
- Όταν ρίξουμε ένα κομμάτι FeS σε διάλυμα HCl και διαβιβάσουμε το αέριο που ελευθερώνεται σε διάλυμα ZnCl₂
 - Όταν σε ένα αραιό διάλυμα H₂SO₄ ρίξουμε μια ποσότητα μείγματος CaCl₂ - Na₂CO₃.
 - Όταν προσθέσουμε μία ποσότητα (NH₄)₂SO₄ σε πυκνό διάλυμα NaOH και διαβιβάσουμε το αέριο που ελευθερώνεται σε διάλυμα HCl.

15. Σε τρία ποτήρια περιέχονται τα διαλύματα Δ_1 , Δ_2 και Δ_3 που περιέχουν αντίστοιχα Na_2CO_3 , H_2SO_4 και $\text{Ca}(\text{OH})_2$.
- Να γράψετε τις χημικές εξισώσεις των αντιδράσεων που θα πραγματοποιηθούν στις εξής περιπτώσεις:
 - αν αναμείξουμε το διάλυμα Δ_1 με το διάλυμα Δ_2
 - αν αναμείξουμε το διάλυμα Δ_2 με το διάλυμα Δ_3
 - αν αναμείξουμε το διάλυμα Δ_1 με το διάλυμα Δ_3 .
 - Εξηγήστε το λόγο για τον οποίο πραγματοποιείται καθεμιά από τις παραπάνω αντιδράσεις.
16. Τρία ποτήρια περιέχουν το καθένα ένα από τα παρακάτω διαλύματα: διάλυμα KCl , διάλυμα H_2SO_4 και διάλυμα Na_2SO_4 . Διαθέτουμε ρινίσματα σιδήρου και διάλυμα CaCl_2 .
- Περιγράψτε ένα τρόπο με τον οποίο μπορούμε να διαπιστώσουμε το περιεχόμενο κάθε ποτηριού, χρησιμοποιώντας μόνο τις δύο χημικές ουσίες που διαθέτουμε.
 - Γράψτε τις χημικές εξισώσεις των αντιδράσεων που πραγματοποιούνται κατά τη διαδικασία που περιγράψατε.
17. Βυθίζουμε μια σιδερένια ράβδο διαδοχικά:
- σε θερμό υδροχλωρικό οξύ και παρατηρούμε ότι ελευθερώνεται ένα αέριο, ενώ το διάλυμα χρωματίζεται πράσινο.
 - σε διάλυμα CuSO_4 και παρατηρούμε ότι η ράβδος καλύπτεται από ένα κεραμέρυθρο στρώμα, ενώ το αρχικό θαλασσί χρώμα του διαλύματος τελικά μετατρέπεται σε ανοιχτόχρωμο πράσινο.
 - σε άχρωμο διάλυμα Ag_2SO_4 .
- Να εξηγήσετε τα φαινόμενα που περιγράφονται στις περιπτώσεις α και β και να γράψετε τις αντίστοιχες χημικές εξισώσεις.
 - Να γράψετε τη χημική εξίσωση της αντίδρασης που πραγματοποιείται στην περίπτωση γ και να περιγράψετε τα φαινόμενα που παρατηρούνται.

18. Δίνεται η σειρά δραστηριότητας των στοιχείων:
K, Ba, Ca, Na, Mg, Al, Zn, Fe, Ni, H, Cu, Hg, Ag
και ότι από τα χλωριούχα άλατα δυσδιάλυτα είναι τα: CuCl , AgCl και PbCl_2 ,
ενώ από τα θειικά άλατα δυσδιάλυτα είναι τα: PbSO_4 , BaSO_4 και CaSO_4 .
Τρία ποτήρια περιέχουν το καθένα, ένα από τα παρακάτω διαλύματα:
διάλυμα HCl , αραιό διάλυμα H_2SO_4 και διάλυμα Na_2SO_4 .
- Αν διαθέτουμε ένα σύρμα μαγνησίου και διάλυμα BaCl_2 , περιγράψτε ένα τρόπο με τον οποίο μπορούμε να διαπιστώσουμε το περιεχόμενο του κάθε ποτηριού χρησιμοποιώντας μόνο τις δύο αυτές χημικές ουσίες.
 - Γράψτε τις χημικές εξισώσεις των αντιδράσεων που θα πραγματοποιηθούν.
 - Εξηγήστε αν θα μπορούσαμε ή όχι να κάνουμε την ίδια διαπίστωση αν διαθέτουμε μόνο ένα σύρμα μαγνησίου και διάλυμα $\text{Pb}(\text{NO}_3)_2$.
19. Η μαρμαροκονία είναι ένα μείγμα μαρμαρόσκονης και $\text{Ca}(\text{OH})_2$ (ασβέστη), που χρησιμοποιείται για το επίχρισμα (σοβάτισμα) των τοίχων. Το κονίαμα αυτό με την επίδραση κάποιου συστατικού της ατμόσφαιρας μετατρέπεται σε μια συμπαγή και σκληρή μάζα αδιάλυτη στο νερό.
- Να γράψετε τη χημική εξίσωση της αντίδρασης που εξηγεί το παραπάνω φαινόμενο.
 - Γιατί οι νεόκτιστες οικοδομές είναι υγρές;
 - Εξηγήστε την επίδραση που έχει η όξινη βροχή στους σοβατισμένους εξωτερικούς τοίχους των κτιρίων.
20. Είναι γνωστό ότι τα άλατα AlCl_3 και $(\text{CH}_3\text{COO})_2\text{Mg}$ δεν είναι δηλητηριώδη για τον ανθρώπινο οργανισμό, ακόμη και όταν λαμβάνονται εσωτερικά. Είναι κατά τη γνώμη σας δηλητηριώδη τα διαλύματα των αλάτων $(\text{CH}_3\text{COO})_3\text{Al}$ και MgCl_2 ; Να αιτιολογήσετε την απάντησή σας, λαμβάνοντας υπόψη ότι η δηλητηριώδης δράση των αλάτων οφείλεται σε ένα ή περισσότερα από τα ιόντα που περιέχουν.

21. Τα καυσαέρια που προκύπτουν από την καύση του πετρελαίου περιέχουν και SO_2 εξαιτίας των προσμίξεων του θείου και των ενώσεων του που περιέχονται στο πετρέλαιο. Το SO_2 αντιδρά σε κατάλληλες συνθήκες με το οξυγόνο του αέρα και το νερό της βροχής και σχηματίζεται έτσι θειικό οξύ που αποτελεί ένα από τα συστατικά της όξινης βροχής. Μια από τις αρνητικές συνέπειες αυτής της όξινης βροχής είναι και η μετατροπή του ανθρακικού ασβεστίου σε θειικό ασβέστιο (γυψοποίηση των μαρμάρων).
- Να γράψετε τις χημικές εξισώσεις που εξηγούν τα παραπάνω φαινόμενα.
 - Ποιες είναι οι επιπτώσεις της όξινης βροχής στα ψάρια και στα φυτά;
22. Όπως είναι γνωστό σε ένα διάλυμα CaCl_2 περιέχονται κατιόντα Ca^{2+} και ανιόντα Cl^- , τα οποία ελευθερώθηκαν από τους κρυστάλλους CaCl_2 που διαλύθηκαν στο νερό. Ομοίως σε διάλυμα Na_2SO_4 περιέχονται κατιόντα Na^+ και ανιόντα SO_4^{2-} . Κατά την ανάμειξη των δύο αυτών διαλυμάτων σχηματίζεται ίζημα CaSO_4 με δομικά συστατικά τα ιόντα Ca^{2+} και SO_4^{2-} που περιέχονται στα δύο αρχικά διαλύματα, ενώ στο τελικό διάλυμα περιέχονται ιόντα Na^+ και Cl^- . Οι διαπιστώσεις αυτές μας οδηγούν στο συμπέρασμα ότι η χημική εξίσωση: $\text{CaCl}_2 + \text{Na}_2\text{SO}_4 \rightarrow 2\text{NaCl} + \text{CaSO}_4\downarrow$, με την οποία συμβολίζουμε συνήθως το παραπάνω χημικό φαινόμενο, είναι ορθότερο να γράφεται με την ιοντική της μορφή:
- $$\text{Ca}^{2+}_{(\text{aq})} + \text{SO}_4^{2-}_{(\text{aq})} \rightarrow \text{CaSO}_4(\text{s})$$
- Γνωρίζοντας ότι:
- οι ενώσεις PbCl_2 , FeS , BaSO_4 και $\text{Al}(\text{OH})_3$ είναι πρακτικά αδιάλυτες στο νερό
 - οι ενώσεις H_2S και CO_2 είναι αέρια με μικρή διαλυτότητα στο νερό και
 - το νερό δε δίσταται πρακτικά σε ιόντα
- προσπαθήστε να αναζητήσετε την αιτία πραγματοποίησης καθεμιάς από τις αντιδράσεις που περιγράφονται από τις παρακάτω χημικές εξισώσεις:
 - $\text{Pb}(\text{NO}_3)_2(\text{aq}) + 2 \text{HCl}(\text{aq}) \rightarrow \text{PbCl}_2 + 2\text{HNO}_3$
 - $\text{FeCl}_2(\text{aq}) + \text{K}_2\text{S}(\text{aq}) \rightarrow 2\text{KCl} + \text{FeS}$
 - $\text{Na}_2\text{SO}_4(\text{aq}) + \text{BaCl}_2(\text{aq}) \rightarrow 2\text{NaCl} + \text{BaSO}_4$
 - $\text{Al}_2(\text{SO}_4)_3(\text{aq}) + \text{Ba}(\text{OH})_2(\text{aq}) \rightarrow 3\text{BaSO}_4 + 2\text{Al}(\text{OH})_3$



ii) Να γράψετε όλες τις παραπάνω χημικές εξισώσεις με την ιοντική τους μορφή, σημειώνοντας στο πρώτο μέλος της καθεμιάς τα ιόντα που αντιδρούν.

iii) Να απαντήσετε στις παρακάτω ερωτήσεις:

- α. γιατί η μαγειρική σόδα (NaHCO_3) διασπάται απ' όλα τα διαλύματα των οξέων;
- β. γιατί όταν προσθέσουμε σταγόνες διαλύματος AgNO_3 σε διάλυμα NaCl ή σε διάλυμα CaCl_2 ή σε διάλυμα HCl , καταβυθίζεται πάντα λευκό ίζημα;
- γ. γιατί αντιδρούν όλα τα διαλύματα των οξέων με όλα τα διαλύματα των βάσεων;

3.7 Ερωτήσεις τύπου "σωστό - λάθος" με αιτιολόγηση

Εξηγήστε αν ισχύουν ή όχι οι προτάσεις που ακολουθούν. Να αναφέρετε σχετικό παράδειγμα, όπου το κρίνετε σκόπιμο.


1. Κάθε οξύ είναι υδρογονούχα ένωση και αντίστροφα κάθε υδρογονούχα ένωση είναι οξύ.
2. Η αμμωνία (NH_3) είναι μονοπρωτική βάση.
3. Κάθε οξύ αλλάζει το χρώμα των δεικτών και αντίστροφα κάθε ένωση που αλλάζει το χρώμα των δεικτών είναι οξύ.
4. Μεταξύ δύο διαλυμάτων βάσεων το περισσότερο βασικό είναι εκείνο που έχει μεγαλύτερο pH.
5. Ένα διάλυμα HCl έχει $\text{pH} = 9$.

6. Το pH ενός διαλύματος NaOH είναι πάντα μεγαλύτερο από το pH διαλύματος HCl.
7. Κάθε ένωση που αντιδρά με οξύ είναι βάση.
8. Το HCl αντιδρά με όλα τα μέταλλα και ελευθερώνει H₂.
9. Ένα οξείδιο, αν δεν είναι βασικό θα είναι όξινο.
10. Οι κοινές ιδιότητες των βάσεων οφείλονται στην ύπαρξη ιόντων H⁺ στα υδατικά τους διαλύματα.
11. Αν ρίξουμε σκόνη Zn σε διάλυμα HCl παρατηρείται αύξηση στη μάζα του διαλύματος.
12. Τα συμπυκνωμένα απορρυπαντικά καθαρίζουν γρηγορότερα τα πιάτα από τα κοινά απορρυπαντικά.
13. Το καλοκαίρι τα φαγητά αλλοιώνονται γρηγορότερα από το χειμώνα.
14. Μια κιμωλία μάζας 5g και σκόνη κιμωλίας 5g χρειάζονται τον ίδιο χρόνο να διαλυθούν σε διάλυμα HCl ίδιας θερμοκρασίας και ίδιας συγκέντρωσης.
15. Το σκούριασμα του σιδήρου είναι μια αντίδραση καύσης.
16. Για να πραγματοποιηθεί μια αντίδραση διπλής αντικατάστασης πρέπει απαραίτητα να παράγεται δυσδιάλυτη ένωση.
17. Αν διαβιβάσουμε αέριο HCl σε διάλυμα Ca(OH)₂ η μάζα του διαλύματος αυξάνεται, ενώ αν διαβιβάσουμε αέριο HCl σε διάλυμα AgNO₃ η μάζα του διαλύματος ελαττώνεται.
18. Τα αντιόξινα φάρμακα ενεργούν γρηγορότερα με τη μορφή σκόνης παρά με τη μορφή χαπιού.

19. Όταν διαλύσουμε μεταλλικό Na σε νερό προκύπτει διάλυμα με $\text{pH} = 4$.
20. Οι αντιδράσεις διπλής αντικατάστασης είναι αντιδράσεις οξειδοαναγωγής.
21. Ένα διάλυμα CuSO_4 μπορούμε να το διατηρήσουμε για μεγάλο χρονικό διάστημα σε δοχείο από αλουμίνιο.
22. Όταν έχουμε πόνο «καούρες» στο στομάχι παίρνουμε ασπιρίνη.
23. Κάθε χημική αντίδραση πραγματοποιείται με απορρόφηση ενέργειας (θερμότητας) από το περιβάλλον.
24. Όταν διαλύσουμε οξείδιο του βαρίου (BaO) στο νερό προκύπτει διάλυμα αλκαλικό.
25. Όταν προσθέσουμε N_2O_5 σε νερό προκύπτει διάλυμα με $\text{pH} > 7$.
26. Η όξινη βροχή εμφανίζεται μόνο σε περιοχές όπου υπάρχει μεγάλη εκπομπή καυσαερίων που περιέχουν οξείδια ρύπους, όπως π.χ. SO_2 και NO_2 .
27. Τα ασβεστολιθικά εδάφη είναι αλκαλικά και συνεπώς είναι ακατάλληλα για την καλλιέργεια κάθε φυτού.
28. Το pH του δέρματος έχει τιμές μεταξύ 5 και 6 και συνεπώς για την προστασία του πρέπει να χρησιμοποιούμε σαμπουάν, κρέμες κ.λπ. με $\text{pH} \geq 7$.
29. Ένα υδατικό διάλυμα περιέχει H_3PO_4 και $\text{Ca}(\text{OH})_2$.

3.8. Συνδυαστικές ερωτήσεις διαφόρων μορφών

1. Η αμμωνία (NH₃) είναι ένα αέριο που διαλύεται στο νερό σε μεγάλες ποσότητες και αντιδρά με αυτό, σύμφωνα με την αντίδραση:



- i) Με βάση τα παραπάνω δεδομένα και σύμφωνα με τη θεωρία του Arrhenius συμπεραίνουμε ότι η NH₃:
- είναι οξύ, διότι περιέχει υδρογόνο
 - είναι βάση, διότι κατά τη διάλυσή της στο νερό ελευθερώνει NH₄⁺
 - είναι οξύ, διότι κατά τη διάλυσή της στο νερό ελευθερώνει OH⁻
 - είναι βάση, διότι κατά τη διάλυσή της στο νερό ελευθερώνει OH⁻.

- ii) Συμπληρώστε τα κενά της πρότασης:

Κατά την εξουδετέρωση της NH₃ με ένα παράγεται , αλλά δεν παράγεται , διότι η NH₃ δεν περιέχει ιόντα , όπως για παράδειγμα:



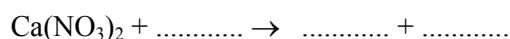
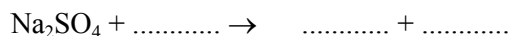
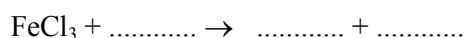
2. Να γίνει η αντιστοίχιση μεταξύ των μοριακών τύπων της στήλης (I) και των ονομασιών της στήλης (II), αφού συμπληρώσετε τα διάστικτα των δύο στηλών.

(I)	(II)
A. H ₂ SO ₃	1. θειικό οξύ
B.	2. ιωδικό οξύ
Γ. HJ	3.
Δ.	4. φωσφορικό οξύ
E. HJO ₃	5.
Z. H ₂ S	6. νιτρικό οξύ
H.	7.
Θ. H ₂ SO ₄	8. υπερχλωρικό οξύ
I.	9. υποχλωριώδες οξύ
K. HCN	10.
Λ. HClO ₃	11. χλωρικό οξύ

3. i) Να αντιστοιχήσετε το κάθε αλάτι της στήλης (I) με το αλάτι με το οποίο μπορεί να αντιδράσει και βρίσκεται στη στήλη (II).

(I)	(II)
A. FeCl_3	α. K_2SO_4
B. Na_2SO_4	β. AgNO_3
Γ. $\text{Ca}(\text{NO}_3)_2$	γ. CaCl_2

- ii) Να συμπληρώσετε τις χημικές εξισώσεις των αντιδράσεων που πραγματοποιούνται στην παραπάνω περίπτωση ποιοτικά και ποσοτικά.



- iii) Σε ποια κατηγορία ανήκουν οι παραπάνω τρεις αντιδράσεις; Ποια από τις προϋποθέσεις πραγματοποίησης αυτών των αντιδράσεων ικανοποιείται σε κάθε μία απ' αυτές;

4. Κάθε ένα από τρία ποτήρια Π_1 , Π_2 και Π_3 περιέχει ένα από τα διαλύματα: διάλυμα CuSO_4 , διάλυμα FeSO_4 και διάλυμα ZnSO_4 . Βυθίζουμε στο ποτήρι Π_1 ένα σύρμα σιδήρου, στο ποτήρι Π_2 ένα σύρμα μαγνησίου και στο ποτήρι Π_3 ένα έλασμα ψευδαργύρου. Παρατηρούμε ότι και στις τρεις περιπτώσεις πραγματοποιείται χημική αντίδραση και καταβυθίζεται ίζημα.

- i) Με βάση τα παραπάνω δεδομένα να κάνετε την αντιστοίχιση μεταξύ των ποτηριών Π_1 , Π_2 και Π_3 της στήλης (I) και των διαλυμάτων που περιέχουν και περιλαμβάνονται στη στήλη (II).

(I)	(II)
Π_1	A. διάλυμα CuSO_4
Π_2	B. διάλυμα FeSO_4
Π_3	Γ. διάλυμα ZnSO_4

- ii) Μετά την πραγματοποίηση των χημικών αντιδράσεων το ποτήρι Π_1 περιέχει διαλυμένο και ίζημα, ενώ το ποτήρι Π_3 περιέχει διαλυμένο και ίζημα

5. Καθένα από τα τρία ποτήρια Π₁, Π₂ και Π₃ περιέχει ένα από τα διαλύματα: διάλυμα AgNO₃, διάλυμα HCl και διάλυμα HNO₃. Προσθέτουμε στο ποτήρι Π₁ διάλυμα BaCl₂, στο ποτήρι Π₂ διάλυμα Pb(NO₃)₂ και στο ποτήρι Π₃ διάλυμα Ca(OH)₂, οπότε διαπιστώνουμε ότι και στα τρία ποτήρια πραγματοποιείται αντίδραση.

i) Με βάση τα παραπάνω δεδομένα να αντιστοιχήσετε τα ποτήρια της στήλης (I) με το διάλυμα που το καθένα περιέχει και περιλαμβάνεται στη στήλη (II).

(I)	(II)
Π ₁	A. διάλυμα AgNO ₃
Π ₂	B. διάλυμα HCl
Π ₃	Γ. διάλυμα HNO ₃

ii) Στο ποτήρι Π₁ πραγματοποιήθηκε αντίδραση η χημική εξίσωση της οποίας είναι
 Στο ποτήρι Π₃ πραγματοποιήθηκε αντίδραση η χημική εξίσωση της οποίας είναι

iii) Εξηγήστε πως διαπιστώνουμε ότι σε κάθε ποτήρι με την προσθήκη του αντίστοιχου διαλύματος πραγματοποιήθηκε αντίδραση.

6. Δώστε τον ορισμό των οξέων, σύμφωνα με τη θεωρία του Arrhenius:

.....

Εξετάστε αν οι παρακάτω προτάσεις είναι σωστές ή λανθασμένες σύμφωνα με τη θεωρία αυτή. (Σημειώστε σε κάθε παρένθεση το γράμμα Σ ή Λ αντίστοιχα).

- α. Κάθε υδρογονούχα ένωση είναι οξύ. (...)
- β. Όλα τα οξέα περιέχουν στο μόριο τους υδρογόνο. (...)
- γ. Το νερό είναι οξύ. (...)
- δ. Τα οξέα είναι γενικά ευδιάλυτα στο νερό. (...)

Να αιτιολογήσετε την επιλογή σας μόνο για τις σωστές προτάσεις.

7. Σύμφωνα με τη θεωρία του Arrhenius η ένωση HNO_3 είναι οξύ διότι:
- αλλάζει το χρώμα των δεικτών
 - περιέχει υδρογόνο
 - διαλύεται στο νερό
 - κάθε υδατικό της διάλυμα περιέχει H^+
- i) Βάλτε σε κύκλο το γράμμα που αντιστοιχεί στη σωστή απάντηση.
 - ii) Αιτιολογήστε την αποδοχή ή την απόρριψη της πρότασης α.
 - iii) Ένα διάλυμα HNO_3 έχει pH μεγαλύτερο ή μικρότερο του 7; Αιτιολογήστε την απάντησή σας.
8. Δίνονται τα οξείδια: Fe_2O_3 , SO_3 , CO_2 , P_2O_5 , K_2O , FeO , SO_2 και N_2O_5 .
- i) Να δώσετε το όνομα των παραπάνω οξειδίων κατά IUPAC και με την κοινή ονομασία τους.
 - ii) Να τα κατατάξετε σε κατηγορίες ανάλογα με τη χημική τους συμπεριφορά.
 - iii) Επιλέξτε από ένα οξείδιο της κάθε κατηγορίας και γράψτε κατάλληλα παραδείγματα χημικών εξισώσεων στις οποίες να συμμετέχουν αυτά και να εξηγούν τη χημική τους συμπεριφορά.
9. i) Να χαρακτηρίσετε τις παρακάτω προτάσεις ως σωστές ή λανθασμένες σημειώνοντας σε κάθε παρένθεση το γράμμα Σ ή Λ αντίστοιχα.
- α. Όλα τα άλατα είναι χημικές ενώσεις μεταξύ μετάλλων και αμετάλλων. (...)
 - β. Όλα τα άλατα είναι ενώσεις ιοντικές. (...)
 - γ. Όλα τα άλατα είναι ευδιάλυτα στο νερό. (...)
 - δ. Τα διαλύματα και τα τήγματα των αλάτων είναι ηλεκτρικά αγωγά. (...)
- ii) Να αιτιολογήσετε το χαρακτηρισμό σας για κάθε λανθασμένη πρόταση, αναφέροντας σε κάθε περίπτωση ένα παράδειγμα άλατος για το οποίο δεν ισχύει η πρόταση αυτή.

10. Τρία ποτήρια Π₁, Π₂, και Π₃ περιέχουν το καθένα ένα από τα διαλύματα: αραιό διάλυμα H₂SO₄, διάλυμα Ag₂SO₄ και διάλυμα Al₂(SO₄)₃. Ρίχνουμε στο καθένα από αυτά ένα σιδερένιο καρφί και παρατηρούμε ότι: από το ποτήρι Π₂ ελευθερώνεται αέριο, στο ποτήρι Π₁ καταβυθίζεται ίζημα και το διάλυμα αποκτά ανοιχτό πράσινο χρώμα και στο ποτήρι Π₃ δεν παρατηρείται καμιά μεταβολή.

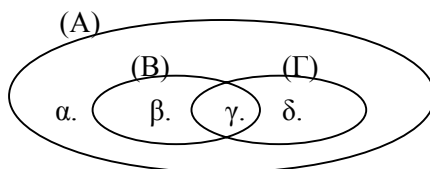
- α. Με βάση τα παραπάνω δεδομένα προκύπτει ότι το ποτήρι Π₁ περιέχει , το ποτήρι Π₂ περιέχει και το ποτήρι Π₃ περιέχει
- β. Να εξηγήσετε τα χημικά φαινόμενα που παρατηρήθηκαν και να γράψετε τις αντίστοιχες εξισώσεις.

11. i) Να συμπληρώσετε τα κενά του παρακάτω πίνακα με τους μοριακούς τύπους των αντίστοιχων οξέων.

Φωσφορικό	υδροκυάνιο	βρωμικό	υδροχλώριο	θειικό	υδρόθειο	νιτρικό

- ii) Να κατατάξετε τα παραπάνω οξέα: α) σε μονοπρωτικά, διπρωτικά και τριπρωτικά και β) σε οξυγονούχα και μη οξυγονούχα.
- iii) Εξηγήστε που οφείλονται οι κοινές ιδιότητες που παρουσιάζουν τα υδατικά διαλύματα όλων των παραπάνω οξέων.
- iv) Αν διαλύσουμε μια ποσότητα υδροθείου σε νερό, το διάλυμα που προκύπτει θα έχει τιμή pH:
- α. 7 β. > 7 γ. < 7 δ. ≥ 7.

12. Τα Βένια διαγράμματα Α, Β και Γ του παρακάτω σχήματος εκφράζουν αντίστοιχα: το σύνολο των οξειδίων, το σύνολο των οξειδίων που αντιδρούν με οξέα και το σύνολο των οξειδίων που αντιδρούν με ισχυρές βάσεις.



- i) Να γίνει αντιστοίχιση μεταξύ των στοιχείων α, β, γ και δ της στήλης (I) και των οξειδίων που περιέχονται στη στήλη (II).

(I)	(II)
α	CO ₂
β	Al ₂ O ₃
γ	H ₂ O
δ	CaO

- ii) Ποια κατηγορία οξειδίων εκφράζει η τομή των συνόλων Β και Γ; Να γράψετε ένα ακόμη οξείδιο που να ανήκει στην τομή των δύο αυτών συνόλων.

13. Ένα διάλυμα είναι δυνατό να περιέχει διαλυμένα τα παρακάτω ζεύγη χημικών ενώσεων:

- α. CO₂ και NaOH
 β. NH₃ και NH₄Cl
 γ. H₂SO₄ και Ca(OH)₂
 δ. H₂SO₄ και Na₂CO₃

- i) Βάλτε σε κύκλο το γράμμα που αντιστοιχεί στη σωστή απάντηση.
 ii) Αιτιολογήστε την απόρριψη των τριών άλλων προτάσεων.

14. i) Να συμπληρώσετε τα κενά ορθογώνια του παρακάτω πίνακα με το μοριακό τύπο του κατάλληλου οξέος και της κατάλληλης βάσης που πρέπει να αντιδράσουν, ώστε να σχηματιστεί το αντίστοιχο αλάτι.

αλάτι	Na ₃ PO ₄	K ₂ CO ₃	Ca(ClO ₃) ₂	Al(NO ₃) ₂	(NH ₄) ₃ PO ₄
οξύ					
βάση					

- ii) Αν δίνεται ότι τα ανθρακικά και τα φωσφορικά άλατα είναι κατά κανόνα δυσδιάλυτα στο νερό και ότι τα άλατα που έχουν σαν κατιόν K⁺, Na⁺, NH₄⁺ ή σαν ανιόν NO₃⁻, ClO₃⁻ είναι ευδιάλυτα, βρείτε όλα τα ζεύγη από τα άλατα του πίνακα που αντιδρούν μεταξύ τους και γράψτε τις χημικές εξισώσεις των αντίστοιχων αντιδράσεων.

15. i) Να συμπληρώσετε τα κενά του παρακάτω πίνακα με το όνομα της αντίστοιχης ένωσης.

NaOH	Ca(OH) ₂	Al(OH) ₃	NH ₃	Mg(OH) ₂	KOH

- ii) Να αναφέρετε τρεις κοινές ιδιότητες για τις παραπάνω ενώσεις και να εξηγήσετε που οφείλονται αυτές.

- iii) Από τις παραπάνω ενώσεις:

α. ευδιάλυτες στο νερό είναι οι:

β. δυσδιάλυτες στο νερό είναι οι:

- iv) Αν διαλύσουμε στο νερό ποσότητα μιας από τις παραπάνω ενώσεις, το διάλυμα που προκύπτει θα έχει τιμή pH:

α. 7 β. > 7 γ. < 7 δ. μικρότερο ή ίσο του 7 ανάλογα με την ένωση που διαλύσαμε.

16. i) Να συμπληρώσετε τα κενά του παρακάτω πίνακα με το όνομα του αντίστοιχου οξειδίου:

μοριακός τύπος	Ba O	N ₂ O ₅	K ₂ O	Al ₂ O ₃	SO ₃	ZnO
ονομασία						

- ii) Από τα οξείδια που περιλαμβάνονται στον πίνακα:

α. όξινα είναι τα:

β. βασικά είναι τα:

γ. επαμφοτερίζοντα είναι τα:

- iii) Από τα οξείδια του πίνακα αντιδρούν με το νερό τα:

.....

σύμφωνα με τις χημικές εξισώσεις:

.....

.....

- iv) Ποια από τα οξείδια του πίνακα αντιδρούν με HCl; Γράψτε τις αντίστοιχες χημικές εξισώσεις.

17. Αφού μελετήσετε τις παρακάτω χημικές μετατροπές, α, β, γ και δ,
- α. $\text{N}_2\text{O}_5 + \text{H}_2\text{O} \rightarrow \text{A}$
- β. $\text{A} + \text{CaCO}_3 \rightarrow \text{B} + \text{H}_2\text{O} + \text{Γ}$
- γ. $\text{Γ} + \text{NaOH} \rightarrow \text{Δ} + \text{H}_2\text{O}$
- δ. $\text{Δ} + \text{H}_2\text{SO}_4 \rightarrow \text{E} + \text{H}_2\text{O} + \text{Γ}$
- i) να βρείτε τους μοριακούς τύπους των ενώσεων Α, Β, Γ, Δ και Ε
- ii) να γράψετε με πλήρη μορφή τις χημικές εξισώσεις που περιγράφουν τις μετατροπές αυτές
- iii) να αντιστοιχήσετε την κάθε αντίδραση της στήλης (I) με την κατηγορία στην οποία ανήκει και περιέχεται στη στήλη (II).

(I)	(II)
α.	διπλή αντικατάσταση
β.	εξουδετέρωση
γ.	σύνθεση
δ.	

18. Τέσσερα οξείδια Α, Β, Γ και Δ αντιδρούν αντίστοιχα με διάλυμα νιτρικού οξέος, με διάλυμα υδροξειδίου του νατρίου, με υδροχλώριο και με διάλυμα υδροξειδίου του ασβεστίου. Από τις αντιδράσεις αυτές προκύπτουν αντίστοιχα τα άλατα: νιτρικό ασβέστιο, φωσφορικό νάτριο, χλωριούχο αργίλιο και θειικό ασβέστιο.

- i) Να γράψετε τους μοριακούς τύπους και τα ονόματα κατά IUPAC των τεσσάρων οξειδίων Α, Β, Γ και Δ.
- ii) Να γράψετε τις χημικές εξισώσεις των αντιδράσεων που πραγματοποιούνται.
- iii) Να αντιστοιχήσετε τα οξείδια της στήλης (I) με την κατηγορία στην οποία αυτά ανήκουν και περιλαμβάνεται στη στήλη (II).

(I)	(II)
Α	όξινο οξύδιο
Β	βασικό οξύδιο
Γ	επαμφοτερίζον οξύδιο
Δ	

19. Σε ένα ποτήρι που περιέχει αραιό διάλυμα HCl ρίχνουμε μια σταγόνα φαινολοφθαλεΐνης και στη συνέχεια ένα κομμάτι κάλιο. Μετά το τέλος των παρατηρούμενων φαινομένων ανακατεύουμε το διάλυμα και παρατηρούμε ότι έχει κόκκινο χρώμα.

i) Γράψτε τις εξισώσεις των αντιδράσεων που πραγματοποιήθηκαν.

ii) Με βάση τα παραπάνω δεδομένα προκύπτει ότι το ποτήρι τελικά περιέχει:

α. KOH, KCl και H₂O

γ. HCl, KOH και H₂O

β. K, HCl και H₂O

δ. HCl, KCl και H₂O.

Βάλτε σε κύκλο το γράμμα που αντιστοιχεί στη σωστή απάντηση και αιτιολογήστε την επιλογή σας.

20. Παρατηρήστε τον παρακάτω πίνακα στον οποίο αναγράφονται τα χρώματα ορισμένων αλάτων.

αλάτι	NaCl	Cu(NO ₃) ₂	CoCl ₂	KNO ₃	CuSO ₄	Fe(NO ₃) ₃	FeSO ₄	K ₂ SO ₄	KJ
Χρώμα	άχρωμο	θαλασσί	ροζ	άχρωμο	θαλασσί	καφέ	πράσινο	άχρωμο	άχρωμο

i) Από τη μελέτη του πίνακα αυτού μπορείτε να συμπεράνετε αν τα χρώματα των παραπάνω αλάτων οφείλονται στο κατιόν ή στο ανιόν αυτών; Να αιτιολογήσετε την απάντησή σας.

ii) Προσπαθήστε, με βάση το παραπάνω συμπέρασμα και με τα δεδομένα του προηγούμενου πίνακα, να συμπληρώσετε τον επόμενο πίνακα.

αλάτι	Na ₂ SO ₄	Co(NO ₃) ₂	FeCl ₃	FeJ ₂	CuCl ₂	NaJ	FeJ ₃	KCl
Χρώμα								

21. Δίνονται τα παρακάτω στοιχεία με σειρά ελαττούμενης δραστηριότητας

Mg, Al, Mn, Zn, Fe, Pb, H, Cu, Ag, Hg

και στον πίνακα αναγράφονται τα χρώματα ορισμένων αλάτων.

αλάτι	FeSO ₄	CuSO ₄	Ag ₂ SO ₄	Al ₂ (SO ₄) ₃	Fe(SO ₄) ₃	MgSO ₄
Χρώμα	ανοιχτό πράσινο	θαλασσί	άχρωμο	άχρωμο	καφέ	άχρωμο

- i) Να προβλέψετε αν θα παρατηρηθεί ή όχι κάποια μεταβολή στο χρώμα του διαλύματος κατά την προσθήκη:
- α. σκόνης αργιλίου σε διάλυμα τρισθενούς θειϊκού σιδήρου
 - β. ρινισμάτων σιδήρου σε διάλυμα θειϊκού αργύρου
 - γ. σύρματος μαγνησίου σε διάλυμα θειϊκού χαλκού (II)
 - δ. διαλύματος θειϊκού χαλκού σε ένα ασημένιο κύπελλο.

Να γράψετε τις χημικές εξισώσεις των αντιδράσεων που θα πραγματοποιηθούν.

- ii) Αν σε διάλυμα γαλαζόπετρας (CuSO_4) ρίξουμε ένα κομμάτι κράματος Fe-Cu-Ag, τότε:
- α. θα μεταβληθεί το χρώμα, η μάζα και η σύσταση του διαλύματος καθώς και η μάζα του κράματος
 - β. θα μεταβληθεί η μάζα του κράματος, το χρώμα και η σύσταση του διαλύματος, αλλά όχι η μάζα του διαλύματος
 - γ. δε θα παρατηρηθεί καμία μεταβολή
 - δ. θα αντιδράσει όλη η ποσότητα του κράματος και θα αυξηθεί η μάζα του διαλύματος.

Βάλτε σε κύκλο το γράμμα που αντιστοιχεί στη σωστή απάντηση και στη συνέχεια αιτιολογήστε την επιλογή σας.